

平成30年度

入学試験問題

# 社 会

---

※試験開始のチャイムや合図があるまで開かないこと

〔注意事項〕

1. 問題用紙は、10ページまでである。
2. 解答は、すべて別紙の解答用紙の所定欄に記入すること。
3. 解答用紙への記入は、試験開始後に記入すること。
4. 解答用紙には出身中学校・受験番号・氏名を必ず記入すること。
5. 試験開始の30分後から退場はできるが、解答用紙は必ず裏返して退場すること。
6. 問題用紙は、各自で持ち帰ること。

常 磐 高 等 学 校

- 1 史郎さんは、わが国の各時代の特色について、世界との関わりを中心に表にまとめた。表をみて、各問に答えよ。

<表>

時代	古代	中世	近世	近代	現代
特色	漢字をもとに①かな文字が発明されたことにより、様々な物語や和歌がつけられるようになった。	天皇中心の政治に不満を持つ人々が兵をあげた結果、②日本全土を巻き込む内乱へと発展した。	将軍の方針により、③新田開発や財政の立て直しなど様々な改革が実施されたことで、幕府の収入は増加した。	護憲運動 <small>ごけんうんどう</small> が発生すると、④政党内閣の確立と参政権の拡大を主張する人々が現れ、後に⑤選挙権の拡張が図られた。	⑥日本の主権が回復した後も、日米安全保障条約により、日本各地にはアメリカの軍事基地が残された。(X)。

- 問1 下線部①について、下の  内の㉠、㉡の ( ) にあてはまる語句を一つずつ選び、記号で答えよ。

日本人の言葉や気持ちをあらわしやすくなったことで、かぐや姫が登場することで知られる㉠ (あ『竹取物語』、い『今昔物語』) や清少納言せいしょうなごんが書いた㉡ (う『源氏物語』、え『枕草子』) などの作品が生み出された。

- 問2 下線部②について、このできごとと同時期に起こった世界の動きとして、最も適切なものを、次の1～4から一つ選び、番号で答えよ。
- 1 奴隷制どれいせいの是非をめぐる、アメリカで南北戦争が起こった。
  - 2 新羅が百済・高句麗を滅ぼして、朝鮮半島を統一した。
  - 3 ロシアで革命が起こり、ソビエト社会主義共和国連邦が誕生した。
  - 4 中国では明が成立して、朝貢貿易ちょうこうが開始された。

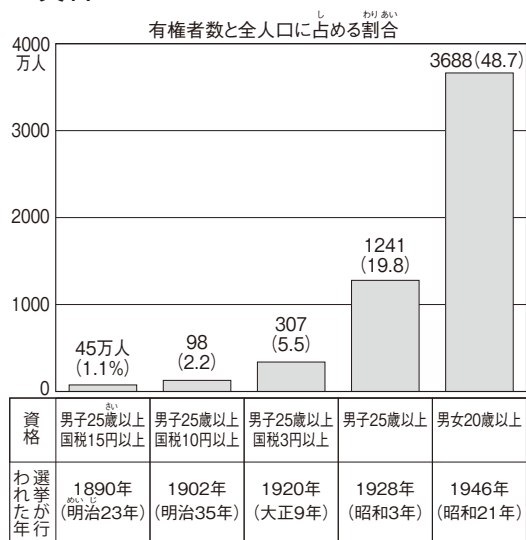
- 問3 右の  内は、下線部③の一つについて説明したものである。〔 A 〕にあてはまる内容を、「民衆」と「政治」の語句を使って書け。

江戸の各地に目安箱めやすばこを設けて、〔 A 〕させようと考えた。

- 問4 下線部④について、わが国における政党政治確立に至るまでの次のア～エのできごとを、年代の古い方から順に並べ、記号で答えよ。
- ア 自由民権運動が活発化し、各地で民権結社が結成された。
  - イ 立憲政友会総裁りっけんせいゆうかいの原敬はらたかしが内閣を組織した。
  - ウ 五箇条ごかじょうの御誓文ごせいもんが發布され、新政府の政治方針が示された。
  - エ 大日本帝国憲法の發布後、第1回衆議院議員総選挙が行われた。

問5 下線部⑤について、資料Iから読み取れるわが国の有権者の割合の変化を書け。また、その変化の理由を、「納税額」の語句を使って書け。

<資料I>



有権者数の移り変わり(『日本統計年鑑』などから作成)

問6 下線部⑥について、表2は第二次世界大戦後の出来事を年表にまとめたものである。日本とソ連の国交が回復したものをa~dの中から選び、記号で答えよ。

<表2>

1949	北大西洋条約機構結成
1950	(a)
1955	アジア・アフリカ会議
1956	(b)
1960	ベトナム戦争開始
1967	(c)
1989	東欧諸国の民主化
1998	(d)

問7 表の(X)には、右の□内のわが国のようすと最も関係があるできごとが入る。(X)にあてはまるできごとを、次の1~4から一つ選び、番号で答えよ。

- 1 東日本大震災が発生し、多くの人命が失われた
- 2 第一次石油危機が起きた
- 3 国連平和維持活動協力法が施行された
- 4 日米防衛協力の指針関連法が初めて成立した

- 自衛隊がカンボジアに派遣された。
  - インド洋でのテロ対策に参加した。

2 成子さんは、現代の日本社会が形成されるまでの歴史に興味をもち、第2次世界大戦前後に活躍した人物についてカードにまとめた。カードをみて、各問に答えよ。

<カード>

 <p>マッカーサー</p> <p>〔おもな活躍〕 ①GHQの最高司令官に任命された。</p>	 <p>①吉田茂</p> <p>〔おもな活躍〕 サンフランシスコ平和条約を締結し、日本の主権を回復させた。</p>	 <p>池田勇人</p> <p>〔おもな活躍〕 ②所得倍増計画をスローガンに掲げた。</p>	 <p>細川護熙<small>もりひろ</small></p> <p>〔おもな活躍〕 ②自由民主党が政権を取り続けた55年体制を終結させた。</p>
--	--	--	---

問1 下線部①, ②について、成子さんは、わが国の戦後の流れを右の表にまとめた。(a), (b)にあてはまる内容を、次の1~5から一つずつ選び、番号で答えよ。

- 1 バブル経済が崩壊した
- 2 大逆たいぎやく事件が発生した
- 3 治安維持法が制定された
- 4 財閥解体の指令が下った
- 5 全国水平社が結成された

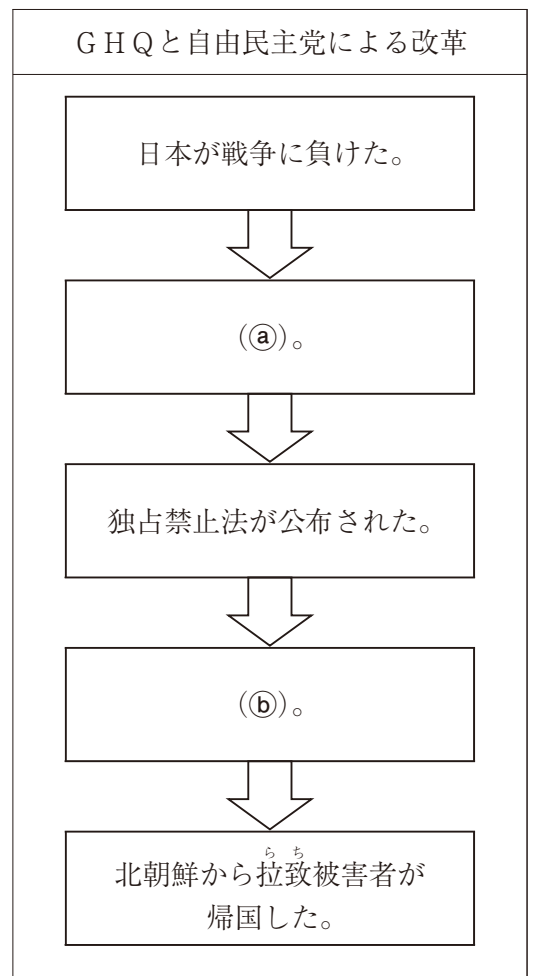
問2 下線部①について、この人物が首相をつとめた期間のできごととしてあてはまるものを、次の1~4から一つ選び、番号で答えよ。

- 1 伊勢志摩サミットの開催
- 2 テレビ放送の開始
- 3 日韓ワールドカップ開催
- 4 イラク戦争の開始

問3 下線部③について、これはどのような計画か、「10年間」の語句を使って説明せよ。また、下線部③を象徴しているできごとを、次の1~4から一つ選び、番号で答えよ。

- 1 九州・沖縄サミットが開催された。
- 2 非合法の闇市やみいちが各地につくられた。
- 3 北海道洞爺湖サミットが開催された。
- 4 世界第2位の経済大国になった。

<年表>



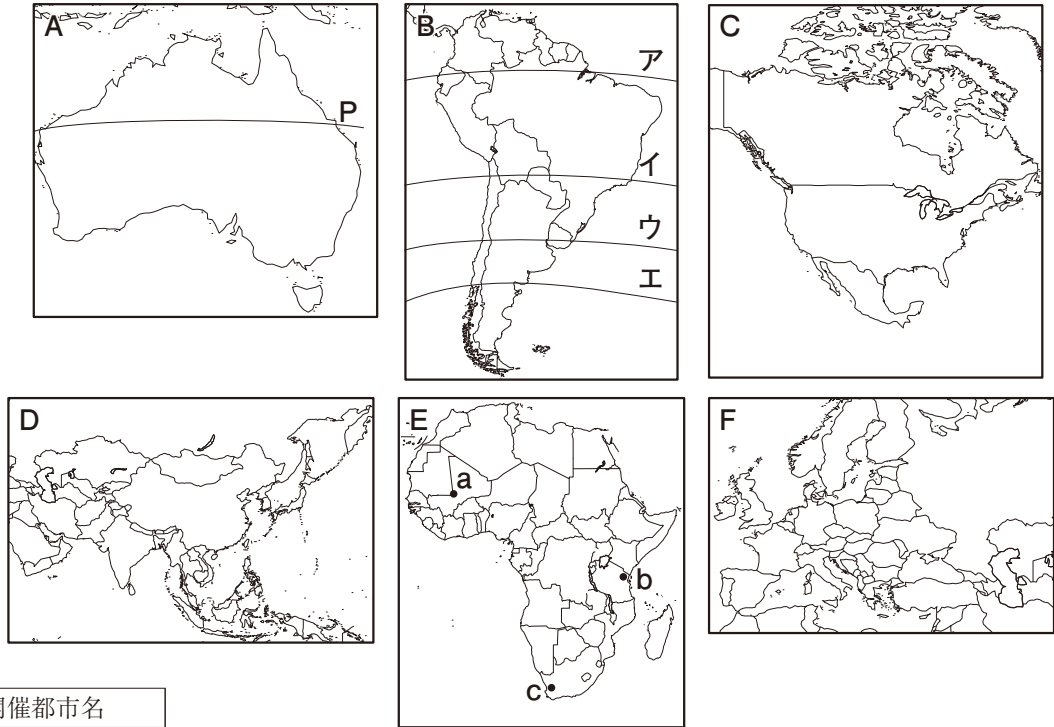
3 勇さんは、2020年に東京でオリンピックが開催されることを知り、世界の州や国について調べ、ノートにまとめた。ノートをみて各問に答えよ。

<ノート>

[世界の大陸と州]

オリンピックの五輪マークは世界の五つの大陸を示している。略地図Ⅰ中のA～Fは世界の五つの大陸を六つの州に区分したものであり、資料Ⅰは過去五回の開催都市を示している。比較すると、①すべての大陸・州でオリンピックが開催されていないことが分かる。

<略地図Ⅰ>



<資料Ⅰ>

開催年	開催都市名
2000	シドニー
2004	アテネ
2008	ペキン
2012	ロンドン
2016	リオデジャネイロ

[アフリカ州の特色]

<資料Ⅱ>

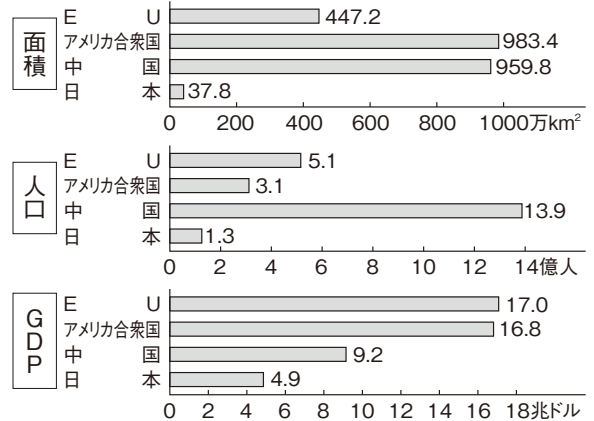
	首都		家屋の特色	都市の特色
	年平均気温(℃)	年平均降水量(mm)		
X	26.0	1072	高床式	高地にあり、バラを栽培している
Y	29.1	174	土壁	交易都市として栄えた
Z	16.8	546	石造り	アパルトヘイトが廃止された

〔理科年表平成27年〕ほかから作成

②アフリカ州は、南北に広いため気候に大きな特色がみられ、生活や産業、歴史に大きな違いがある。

[ヨーロッパ州の特色]

<資料Ⅲ> EUとアメリカ合衆国・中国・日本の比較

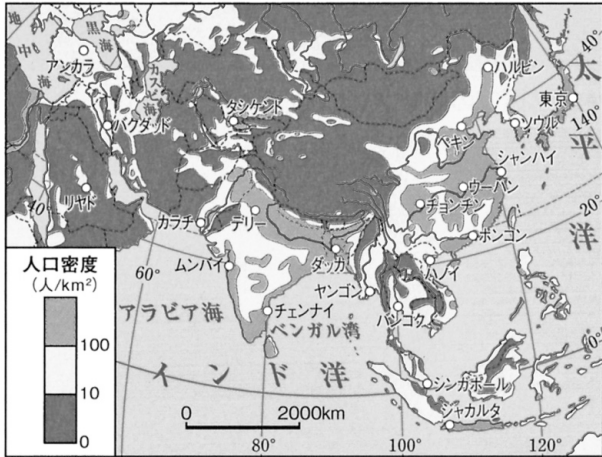


〔世界銀行資料2013〕から作成

③他の経済大国と比較すると、ヨーロッパ統合の目的が理解できる。

〔アジア州の特色〕

＜資料Ⅳ＞アジアの人口密度

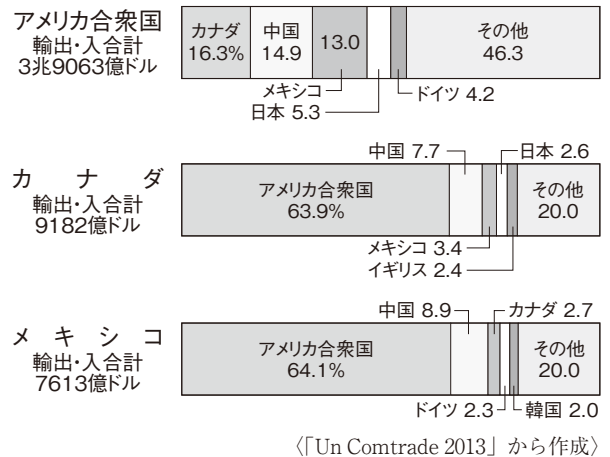


〔Diercke Weltatlas 2008〕から作成

④アジア州の人口密度の特色は、地域により大きな違いがみられる。

〔北アメリカ州の特色〕

＜資料Ⅴ＞アメリカ合衆国・カナダ・メキシコの貿易相手国



〔Un Comtrade 2013〕から作成

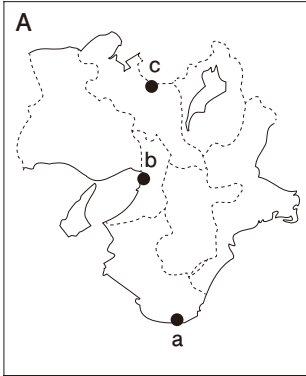
⑤これら三国は貿易の結びつきを強めている。また近年、他の地域との結びつきが強くなってきている。

- 問1 略地図Ⅰ中Aに示すPの緯線周辺では乾燥帯が広がることが多い。緯線Pの名称を答えよ。また、Pの緯線と同じ緯度の緯線を、略地図Ⅰ中BのA～Eから一つ選び、記号で答えよ。
- 問2 下線部①について、過去5回のオリンピックにおいて一度も開催されていない州を略地図Ⅰ中のA～Fからすべて選び、記号で答えよ。
- 問3 下線部②について、資料Ⅱは、略地図Ⅰ中Eのa～cの気候などを示し、X～Zはそのいずれかの国を示している。a～cの国を示すものを、X～Zから一つずつ選び、記号で答えよ。
- 問4 下の  内は、下線部③について、勇さんがまとめたものである。(イ)と、(ロ)にあてはまる語句を、それぞれ答えよ。
- ヨーロッパ統合の目的は、ヨーロッパの国々が人口や面積の規模が(イ)国が多いことから、経済や政治などで力を増したアメリカ合衆国などの大国に(ロ)する必要があったためである。
- 問5 下線部④について、アジア州において人口密度が高いのはどのような地域か、「降水量」、「平野」の語句を使用して、書け。
- 問6 下線部⑤について、アメリカ合衆国・カナダ・メキシコの三カ国において、関税をなくし、活発な貿易を行うことを目的とした協定は何か、下の1～4から一つ選び、番号で答えよ。
- 1 ASEAN      2 NAFTA      3 OPEC      4 AU

4 泉さんは、日本の七つの地方（中国・四国地方を一つの地方とする）の特色をノートにまとめた。略地図A～Gはそれぞれの地方を示している。ノートを見て、各問に答えよ。

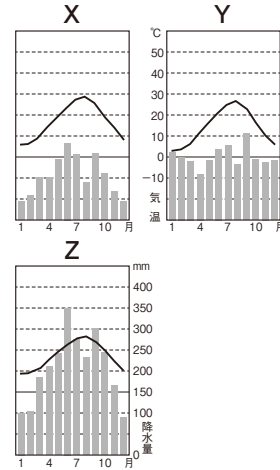
<ノート>

[自然環境からみた特色]



<資料I>

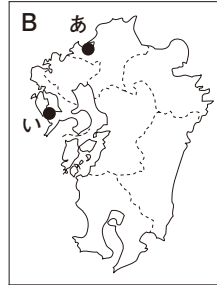
a～cの都市の雨温図



〔理科年表平成27年〕から作成

①海流や風の影響を強く受け、異なる気候がみられることが雨温図から読み取れる。

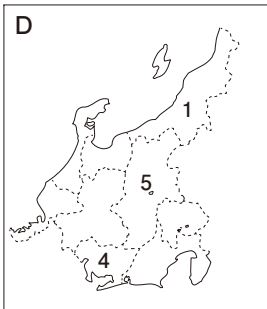
[歴史からみた特色]



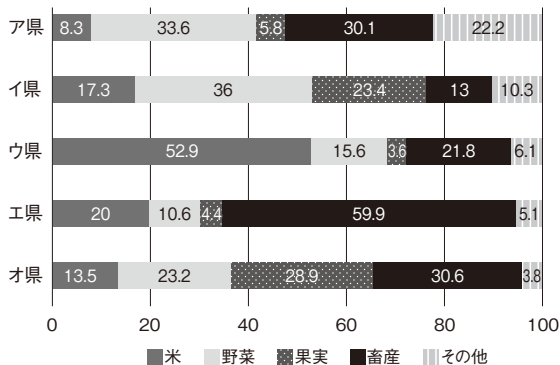
この二つの地方には、外国との交流についての歴史があり、下の□内の②二つのことがらを満たしていることがわかった。

- 江戸時代の終わりに外国との貿易のために開港された。
- 近隣諸国との交流がおこなわれている。

[産業からみた特色]



<資料II> 農業産出額の内訳

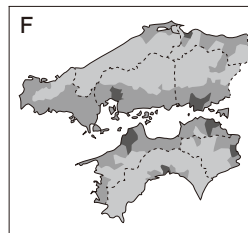


〔平成25年生産農業所得統計〕から作成

③それぞれの地域の特色に合わせた農業が発達し、大都市圏に出荷されている。

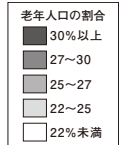
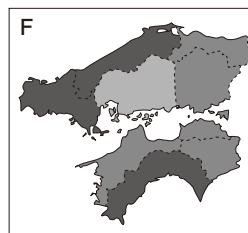
[人口からみた特色]

<資料III> 人口密度



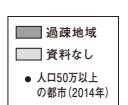
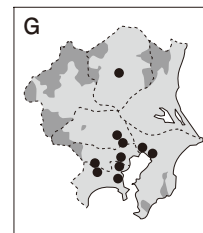
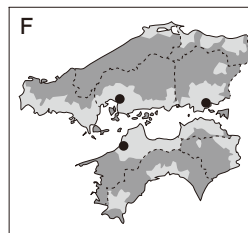
〔平成22年国勢調査報告〕から作成

<資料IV> 老年人口の割合



〔住民基本台帳人口要覧平成27年版〕から作成

<資料V> 過疎地域の分布



〔住民基本台帳人口要覧平成26年版〕から作成

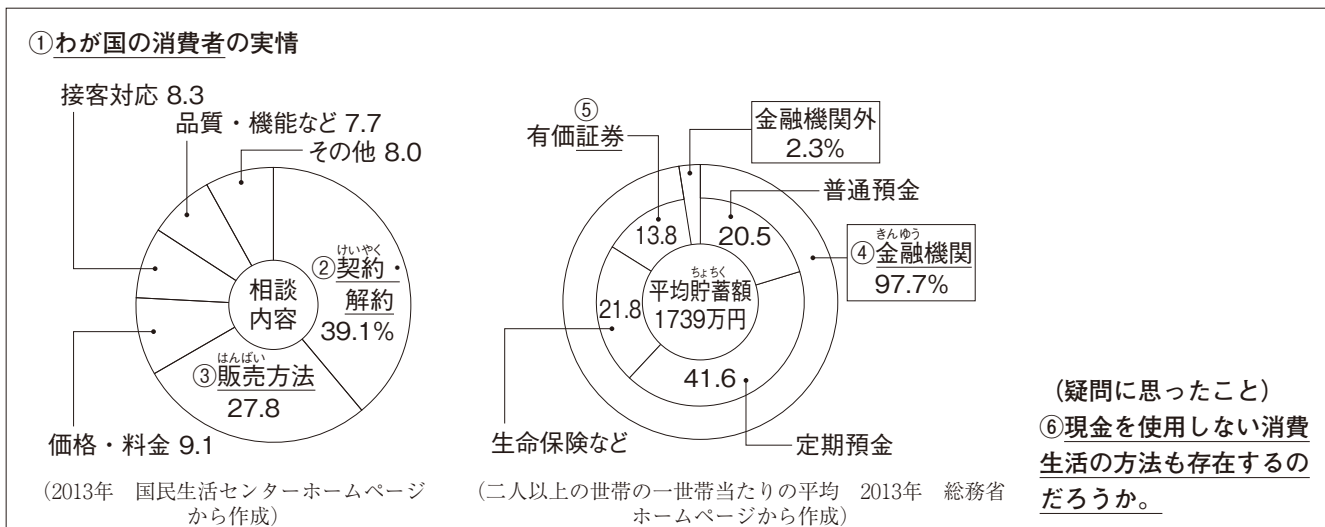
④過密地域と過疎地域の分布は、地域により大きな違いがみられる。

- 問1 下線部①について、資料Ⅰの雨温図**X～Z**は、略地図**A**の**a～c**のいずれかを示している。**a**、**c**にあてはまる雨温図を、**X～Z**から一つずつ選び、記号で答えよ。また、**a**の気候に影響を与える海流の名称を答えよ。
- 問2 略地図**B**、**C**の**あ～え**の都市のうち、下線部②が示す都市を、それぞれの略地図が示す地方から一つずつ選び、**あ～え**の記号で答えよ。
- 問3 下線部③について、資料Ⅱの**ア～オ**は、略地図**D**、**E**の**1～5**のいずれかを示している。**1**、**3**にあてはまるものを、**ア～オ**から一つずつ選び、記号で答えよ。
- 問4 下線部④について、資料Ⅲ～Ⅴをみて、過疎地域について、その特色を書け。ただし、「過疎がみられる地域は」の書き出しで、「人口密度」、「老年人口の割合」の語句を使って書くこと。



5 鉄郎くんは、消費生活に関する資料から疑問に思ったことをノートにまとめた。ノートをみて、各問に答えよ。

<ノート>

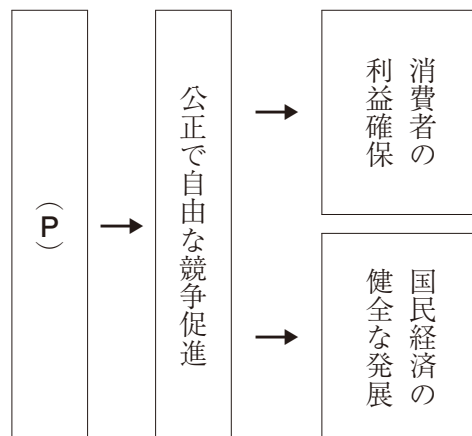


問1 下線部①について、図Iは(P)の機関が運営する、国の消費生活を守るためのしくみと、(P)とは関連しない財やサービスの例を記載したものである。

(1) (P)の機関の仕事として、あてはまるものを、次の1~4からすべて選び、番号で答えよ。

- 1 カルテルの取り締まり      2 オープン価格の設定  
3 製造物責任法の運用      4 独占禁止法の運用

<図I>



(2) 図Iに示す(P)とは関連しない財やサービスについて、資料Iから読み取れる内容を、「誰にとっても必要なもの」の書き出しで、「公平」と「公的管理」の語句を使って書け。

<資料I>

電気、郵便、水道、ガス、公立学校、介護、公衆浴場

問2 下線部②について、契約・解約に関連する法律に消費者契約法がある。

下の□内の〔ア〕にあてはまる内容を書け。

消費者契約法では業者側の不適切な勧誘<sup>かんゆう</sup>が存在した際、クーリング・オフ制度の規定があり、契約取消期間の〔ア〕ができる。

問3 下線部③について、消費者と生産者をつなぐものに流通業が存在するが、次の1~4の流通に関連する語句のうち、右の□内の三つのことがらをすべて満たすものを一つ選び、番号で答えよ。

- 1 オンライン・ショッピング      2 無人直売  
3 POSシステム      4 物々交換

- 多くのスーパーやコンビニエンスストアで導入されている。  
○バーコードを読み取って価格を計算している。  
○コンピューターを通じて販売数のデータを本部に送っている。

問4 下線部④について、下の□内は金融機関を説明したものである。㊦、㊧の( )にあてはまる語句を、一つずつ選び、記号で答えよ。

金融機関は家計などからお金を貯金として預かり、これを元にしてお金を必要としている企業などに貸し付ける㊦(あ 融資, い 譲渡)を行っている。また、貸し付けの際に、銀行などを通す仕組みを㊧(う 直接金融, え 間接金融)という。

問5 次の□内は、下線部⑤について説明したものである。(a), (b)にあてはまる語句を正しく組み合わせるものを、下の1~4から一つ選び、番号で答えよ。

証券取引所は、株式市場の中心的な役割を果たしている。日本では、東京、大阪、名古屋、(a)、札幌の5カ所にある。また、証券取引所の中には、ベンチャー企業など株式の上場が難しい新興企業のために(b)などの市場も存在する。

- |                      |                      |
|----------------------|----------------------|
| 1 aは広島, bはリーマン・ブラザーズ | 2 aは福岡, bはマザーズ       |
| 3 aは広島, bはマザーズ       | 4 aは福岡, bはリーマン・ブラザーズ |

問6 下線部⑥について、鉄郎くんは、現在の消費生活に疑問に思ったことを調べて、資料Ⅱを作成した。資料Ⅱでは、クレジットカードの利点とクレジットカードによる問題点を示している。資料Ⅱから読み取れる内容を「クレジットカード」「自己破産」の語句を使って書け。

<資料Ⅱ>

○クレジットカードの利点  
→現金をもっていなくても買い物ができる。

○クレジットカードによる問題点

1か月後の請求が……

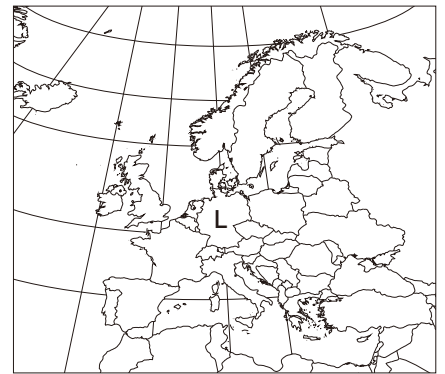
6 下の会話文は、杏さんと先生が、「憲法9条」について会話した内容の一部である。会話文を読み、各問に答えよ。

杏さん 「ニュースで、憲法9条に関する記事を見ました。太平洋戦争終結後、わが国は①平和主義を目指してきました。しかし、憲法9条が改正されることで、自衛隊による戦争への介入や他国の領土を侵略する危険性が出てくるのではないかと心配しています。」

先生 「近隣諸国の中には、核実験を実施して②核兵器保有を宣言する北朝鮮や領土問題をめぐって対立している中国、韓国が存在している。現在の憲法9条ではこうした問題について対応が取れないため、現在国会では、憲法改正が議論されています。  
もちろん、③国際紛争に自衛隊が参戦するようなことがないように考えていかなければなりません。」

問1 下線部①について、下の □ 内は、杏さんが平和主義について説明したものである。略地図Iで示された(L)はわが国と同様に平和主義を掲げている国である。(L)に入る国名を書け。

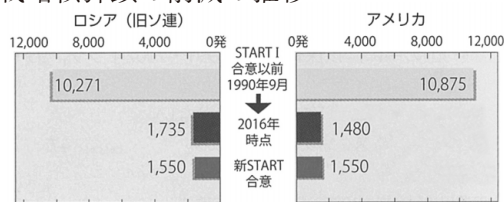
<略地図I>



日本国憲法では、戦争の永久放棄、戦力の不保持と国の交戦権の否認を定めています。今日では、他の国々の憲法にも平和に関する条項が含まれており、略地図Iで示された(L)も侵略戦争に関連する行為すべてを違憲としている。

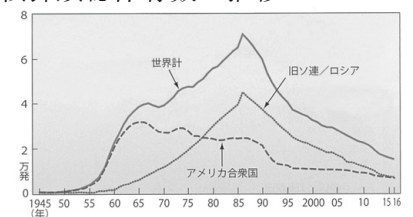
問2 下線部②について、資料I、IIから読み取れることを、「削減」「核兵器の保有数」の語句を使って書け。

<資料I> 戦略核弾頭の削減の推移



(『世界国勢図会』2016/17から作成)

<資料II> 核弾頭総保有数の推移



(『世界国勢図会』2016/17から作成)

問3 下線部③について、写真I、IIはそれぞれ紛争地帯に関する写真である。写真I、IIの紛争が発生した理由を「民族」と「宗教」の語句を使って書け。

<写真I>



ボスニア・ヘルツェゴビナ紛争 (サラエボ, 1992年)

<写真II>



空爆から逃げ惑う人々 (2009年 パレスチナ自治区)

# 社会解答用紙

1	問1	㊶		㊷	
	問2				
	問3				
	問4				
	問5	変化		理由	
	問6				
	問7				

2	問1	㊸		㊹	
	問2				
	問3				番号

3	問1	名称		記号	
	問2				
	問3	a		b	c
	問4	(イ)		(ロ)	
	問5				
	問6	番号			

4	問1	a		c		海流名	
	問2	B		C			
	問3	1		3			
	問4	過疎がみられる地域は					

5	問1	(1)		
		(2)	誰にとっても必要なものを	
	問2			
	問3			
	問4	㊶		㊷
	問5			
問6				

6	問1	
	問2	
	問3	

出身校	受験番号	氏名	得点
中学校	.....		