

平成31年度

入学試験問題

# 社 会

---

※試験開始のチャイムや合図があるまで開かないこと

〔注意事項〕

1. 問題用紙は、9ページまでである。
2. 解答は、すべて別紙の解答用紙の所定欄に記入すること。
3. 解答用紙への記入は、試験開始後に記入すること。
4. 解答用紙には出身中学校・受験番号・氏名を必ず記入すること。
5. 試験開始の30分後から退場はできるが、解答用紙は必ず裏返して退場すること。
6. 問題用紙は、各自で持ち帰ること。

常 磐 高 等 学 校

1 健斗さんは、わが国の戦いの歴史について調べ、ノートにまとめた。ノートを見て、各問に答えよ。

〈ノート〉

〈写真Ⅰ〉



蝦夷を討伐するために、桓武天皇は大軍を派遣した。それにより、蝦夷たちの抵抗はなくなり、朝廷の支配は拡大した。写真Ⅰは蝦夷討伐の際に征夷大將軍に任命された人物（X）である。



日本との交渉が決裂した後、フビライ=ハンは①2度にわたり大軍を日本へ派遣したが、いずれも失敗に終わった。



アイヌの首長シャクシャインは不当な②貿易を行う松前藩に対して蜂起したが、幕府の助けを得た松前藩により鎮圧された。



新政府軍と旧幕府軍は鳥羽・伏見の戦い以降、各地で戦いを繰り返していった。最終的に新政府軍の勝利で戦いは終結し、③武士の時代が終わり、新時代が始まった。



義和団が中国各地で反乱を起こし、外国公使館の取り囲みを行ったが、日本・ロシアなど8か国が軍隊を派遣した結果、鎮圧された。

○この事件の後、ロシアは清や朝鮮半島への影響力を強めてきたため、日本と対立を深めて、後に両国間で戦争が行われた。日本は辛くも勝利し、④ロシアから領土の一部とある権利を獲得し、⑤朝鮮半島に対する優越権も認められた。

問1 ノートの（X）にあてはまる人物を、次の1～4から1つ選び、番号で答えよ。

- 1 小野妹子 2 行基 3 菅原道真 4 坂上田村麻呂

問2 下線部①について、次の各問に答えよ。

(1) この2度にわたる元軍の派遣の組み合わせとして正しいものを、次の1～4から一つ選び、番号で答えよ。

- 1 文永の役・慶長の役 2 文禄の役・弘安の役  
3 文永の役・弘安の役 4 文禄の役・慶長の役

(2) この遠征後、西日本の御家人達が幕府に対して不満を持つようになる。その理由を「恩賞」の語句を使って書け。

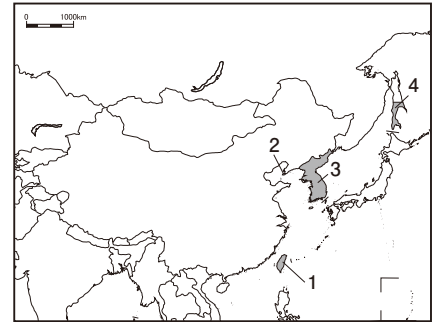
問3 下線部②について、蝦夷地から運ばれてくる昆布などの海産物が中国に輸出されるときに何と呼ばれたか答えよ。

問4 下線部③について、この時期における一連の動きに関する次のA～Dのできごとを、年代の古い方から順に並べ、記号で答えよ。

- A 内閣制度を創設する。
- B 安政の大獄により、吉田松陰らが処刑された。
- C 異国船打払令が出され、幕府は外国船を軍事力で打ち払う方針を示した。
- D 版籍奉還により、各地の大名から領地と戸籍が天皇に返上された。

問5 下線部④について、略地図Iは第一次世界大戦前における日本の領土を示している。日本がロシアから獲得した領土を略地図Iの中から選び、番号で答えよ。また、日本はこの戦争でロシアから賠償金をとることができなかったことにより起きた事件名を答えよ。

〈略地図I〉第一次世界大戦前における日本の領土



問6 下線部⑤について、下の□内は日本統治下の朝鮮半島で起きたことをまとめている。〔P〕にはあてはまる数字を、〔Q〕にはあてはまる語句を書け。また、〔R〕には①、②の中から一つ選び、答えよ。

朝鮮では、〔P〕年3月1日、〔Q〕(現在のソウル)で独立運動が行われ、全土に広がった。この運動により、日本の朝鮮半島支配はR〔①厳しくなった、②緩められた〕。

2 下の□内は、吾郎さんと明子さんが、1920年代以降のわが国の電化製品について会話した内容の一部である。会話文を読み、各問に答えよ。

吾郎： 第一次世界大戦後、わが国では暖房・扇風機・炊飯器などの電化製品が登場したんだね。下の写真Iは、1925年に開始されたあることを写したものだね。

明子： この時代は一部の人たちしか使えなかったのよね。だけど、1955年～1964年ごろになると、①「三種の神器」と呼ばれるものが、各家庭に普及してくるようになるのよね。

吾郎： 1970年代には、〔a〕、カー（乗用車）、〔b〕の3Cとよばれるものに人気が集まって、②1980年代半ば以降になると、少しずつパソコンが普及し始めるようになっているね。

明子： 今後はパソコンの普及に伴って、インターネットや通販サイトを使用する家庭が増えていくことが予想できるわね。

〈写真I〉



問1 上の写真Iについて、この写真は何が開始された様子を写したものが答えよ。

問2 下線部①を示すものの組み合わせとして、正しいものはどれか、次の1～4から1つ選び、番号で答えよ。

- 1 電気洗濯機・白黒テレビ・電気冷蔵庫
- 2 電気冷蔵庫・白黒テレビ・電気アイロン
- 3 電子レンジ・電気洗濯機・白黒テレビ
- 4 電気アイロン・電気洗濯機・電子レンジ

(共同通信社提供)

問3 〔a〕、〔b〕に入る語句を答えよ。

〈写真II〉



問4 下線部②について、この頃の日本では写真IIのような現象がいくつも見られた。この現象が起きた理由を「バブル経済」と「上昇」の語句を使って書け。

3 優さんは、世界の州や国について調べ、ノートにまとめた。ノートをみて、各問に答えよ。

<ノート>

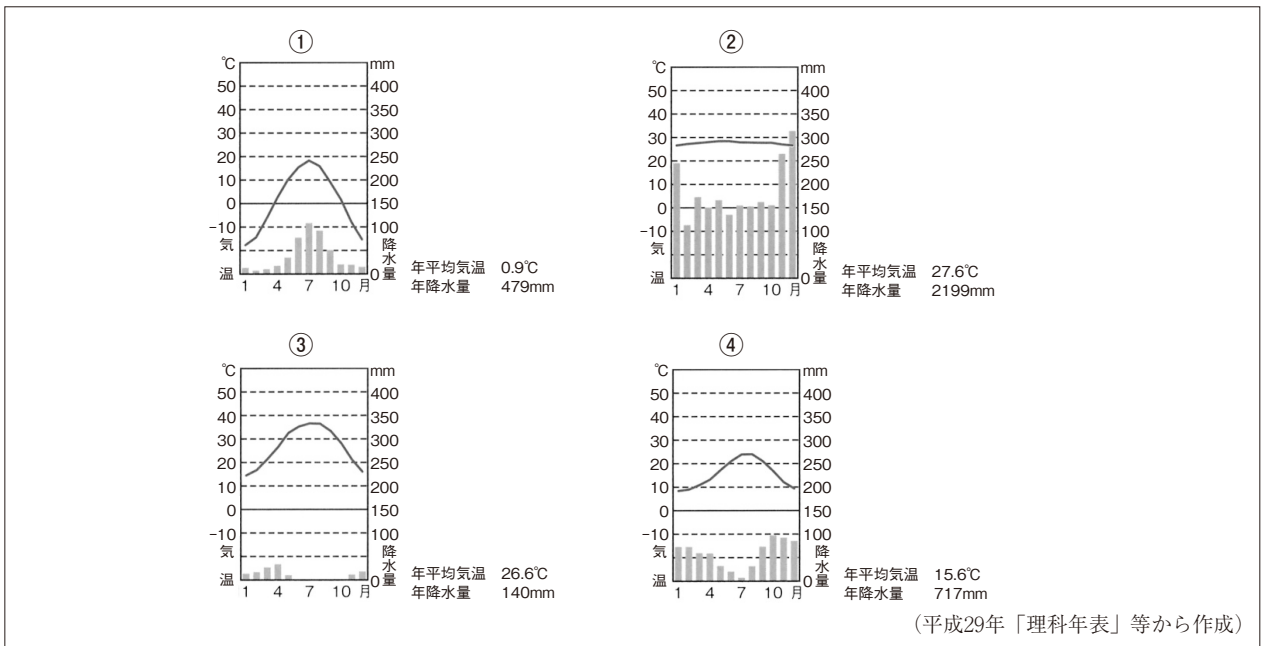
<略地図>



<資料Ⅰ>

この国は年降水量500mm未満の地域が大陸全体のほとんどをしめ、ほとんどの地域が乾燥した草原や砂漠となっているので、人口のほとんどは比較的降水量が多く農業のさかんな南東部・南西部に集中している。またこの国は、おもにイギリスからの移民によって開拓が進められたので、第二次世界大戦の直後までは、国民の大多数がイギリス系だった。もともとイギリスの影響が強かったこの国の社会は、イギリス以外のヨーロッパやアジア各地からの移民が増加したことによって、さまざまな文化をたがいに尊重しあう多文化社会へと大きく変化した。

<資料Ⅱ>






問1 資料Ⅰは、ある国の特徴について、まとめたものである。資料Ⅰが示す国を、略地図のA～Dから一つ選び、記号で答えよ。

問2 略地図の▲は、ある造山帯に分布する火山を示したものである。この造山帯名を答えよ。

問3 資料Ⅱの①～④の雨温図は、略地図のa～dのいずれかの都市のものである。b)にあてはまるものを、①～④から一つ選び、番号で答えよ。

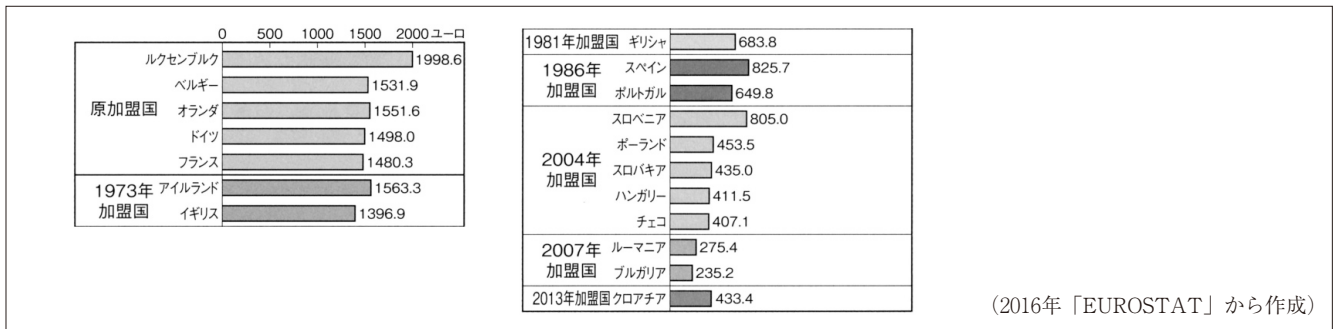
問4 下の資料Ⅲのあ～うは、略地図中のE～Gの国について調べ、まとめたものである。E～Gの国を示すものを、あ～うから一つずつ選び、記号で答えよ。

<資料Ⅲ>

<p><b>あ</b></p> <p>土をこねてかため、太陽の熱で乾かした日干しれんがを使っている。</p> 	<p><b>い</b></p> <p>コートやブーツには、保温性の高いトナカイや馬などの毛皮を使っている。</p> 	<p><b>う</b></p> <p>象の顔に人間の体をもつガネーシャという神の像をつくり、まちの中を練り歩く。</p> 
---	--	---


問5 略地図のHについて、下の資料Ⅳは、EU諸国における1ヶ月あたりの最低賃金の比較を示したものである。近年東ヨーロッパの国々に、ドイツやフランスの企業が工場を移転する理由を、「安価」と「労働力」と「製品」の語句を使って書け。

<資料Ⅳ>EU諸国における1ヶ月あたりの最低賃金の比較



問6 略地図のIについて、下の資料Ⅴは、アフリカ各国のおもな輸出品を示したものである。このような、特定の産物の輸出に頼ることによって起こる問題を、「モノカルチャー経済は」の書き出しで、「価格」と「変動」と「収入」と「安定」の語句を使って書け。

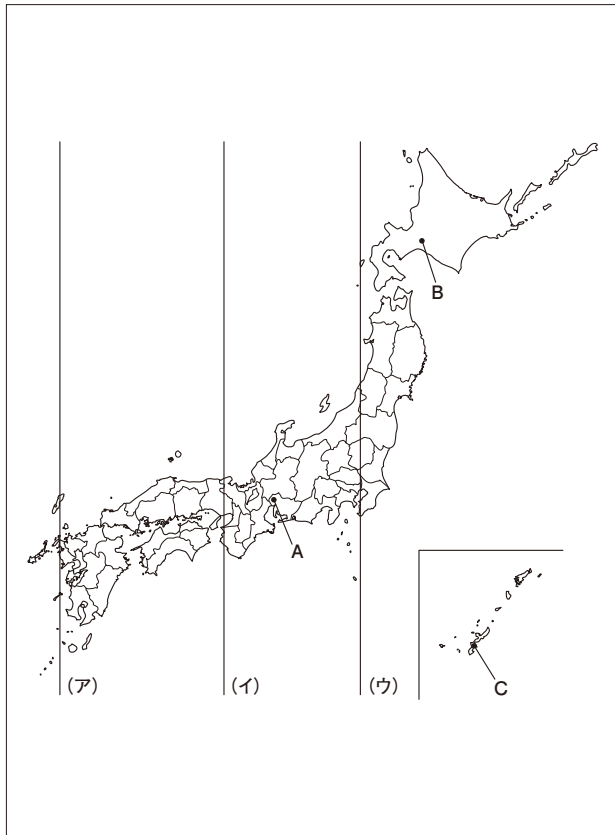
<資料Ⅴ>アフリカ各国のおもな輸出品



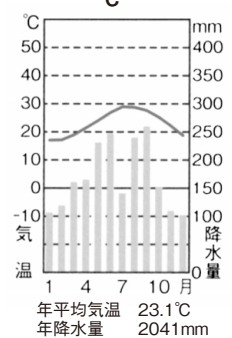
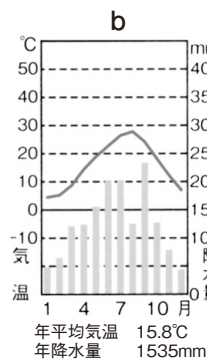
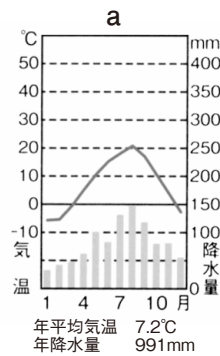
4 今泉さんは、日本の様々な特色を調べ、ノートにまとめた。ノートをみて、各問に答えよ。

<ノート>

<略地図>



<資料 I >



(平成29年「理科年表」等から作成)

<資料 II > 日本の海外進出企業

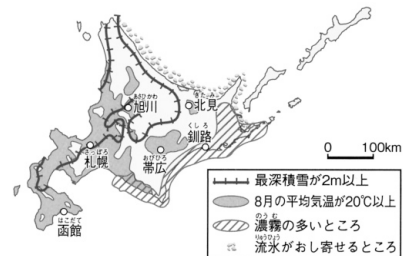
地域名	日本企業数	国・地域名	日本企業数	国・地域名	日本企業数
世界計	29 904	中国	6 774	マレーシア	965
アジア	18 719	アメリカ	3 830	韓国	931
中近東	225	タイ	2 412	イギリス	912
アフリカ	199	シンガポール	1 386	インド	808
ヨーロッパ	4 378	(香港)	1 282	ドイツ	802
アンゴロアメリカ	4 158	インドネシア	1 218	オーストラリア	584
ラテンアメリカ	1 488	(台湾)	1 071	フィリピン	579
オセアニア	737	ベトナム	972	メキシコ	541

② 日本企業の出資比率合計が10%以上の現地法人、及び海外支店・事務所の集計

国・地域名	日本企業数
ブラジル	459
オランダ	458
フランス	414
カナダ	328
イタリア	248
ロシア	192
スペイン	188
ベルギー	176

(2018年版「データブックオブ・ザ・ワールド」から作成)

<資料 III >



北海道(1970年)	11.9頭
北海道(2016年)	121.1頭
千葉県(2016年)	44.6頭
全国平均(2016年)	79.1頭

酪農家1戸あたりの乳牛飼育頭数の比較



機械化された酪農

(「農林水産省資料」から作成)

問1 日本の標準時子午線を，略地図の経線ア～ウから一つ選び，記号で答えよ。

問2 資料Ⅰの雨温図 a～c は，略地図の A～C のいずれかを示している。B，C にあてはまる雨温図を，a～c から一つずつ選び，記号で答えよ。

問3 資料Ⅱについて，近年日本企業の海外進出や，価格の安い外国企業からの製品の輸入が増えることで起こる問題を，「衰退」と「空洞」の語句を使って書け。

問4 資料Ⅲについて，北海道で酪農がさかんになった理由を，「夏でも」の書き出しで，「稲作・畑作」の語句を使って書け。

5 祐美さんの学級では、班ごとに調べ学習を行い、調べたことをカードにまとめた。カードをみて、各問に答えよ。

<カード>

<p>1班 国会</p> <p>国会は①衆議院と参議院から構成される。</p> 	<p>2班 内閣</p> <p>内閣は国会の信任にもとづいて成立し、国会に対して連帯して責任を負う。これを②議院内閣制という。</p> 	<p>3班 裁判所</p> <p>すべての裁判所は③違憲立法審査権を持つ。</p> 
---	--	---

<p>4班 北九州市議会</p> <p>直接請求権の一つに④条例の制定・改廃がある。</p> 	<p>5班 財務省</p> <p>財務省は国の予算・決算・会計、通貨、⑤国債などに関することなどを司る。</p> 	<p>6班 国際連合本部</p> <p>⑥国際連合の加盟国数は、2011年に193カ国になった。</p> 
--	---	--

問1 下線部①について、下の  内は、衆議院と参議院の権限の一部を説明したものである。a, bの ( ) にあてはまる語句を一つずつ選び、記号で答えよ。

衆議院は参議院より任期がa(あ 長く, い 短く)、解散があるので、参議院よりも強い権限を持つことがある。これを衆議院の優越という。b(あ 条約の承認, い 法律案の議決)について衆議院と参議院の議決が異なった場合、両院協議会が開かれる。

問2 下線部②について、図Iは衆議院の解散から新しい内閣総理大臣の指名までを示したものである。( ) にあてはまる語句を書け。

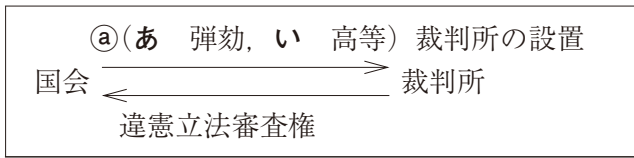
<図I>

衆議院の解散→総選挙→( )の召集→内閣総理大臣の指名



問3 下線部③について、図Ⅱは国会と裁判所の関係を示したものである。㉑の（ ）にあてはまる語句を選び、記号で答えよ。また違憲立法審査権とはどのような権限か、「法律が」の書き出しで、「違反」の語句を使って書け。

<図Ⅱ>



問4 下線部④について、北九州市の有権者数は801,200人（平成30年9月現在）である。条例の制定を請求する場合、何人以上の署名が必要か、数字で答えよ。

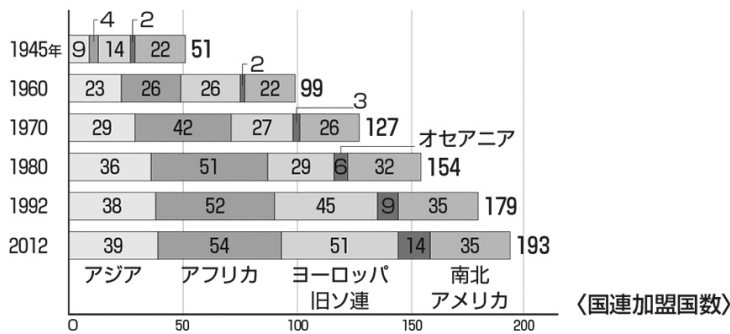
問5 下線部⑤について、資料Ⅰは財務省が発行する国債である。国債のうち、赤字国債を発行する目的を、「補う」の語句を使って書け。

<資料Ⅰ>



問6 下線部⑥について、資料Ⅱは国際連合加盟国数の推移を示している。1992年に加盟国数が大幅に増加したのはなぜか、次の1～4から一つ選び、番号で答えよ。

<資料Ⅱ>

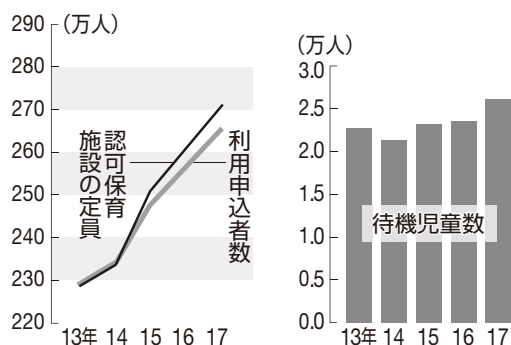


「国際連合広報センターHP」から作成

- 1 アフリカの国々が独立し、加盟したから。
- 2 東南アジアの国々が独立し、加盟したから。
- 3 EU加盟国がいっせいに加盟したから。
- 4 冷戦が終結し、東欧諸国が加盟したから。

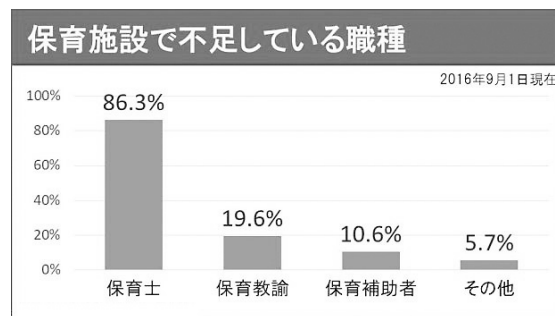
6 翔くんは、「わが国の保育所を取り巻く現状と課題」というテーマでレポートを書くために、調べたことから資料を作成し、ノートにまとめた。ノートをみて、各問に答えよ。

<資料Ⅰ> 認可保育施設の定員，利用申込者数，待機児童数の推移



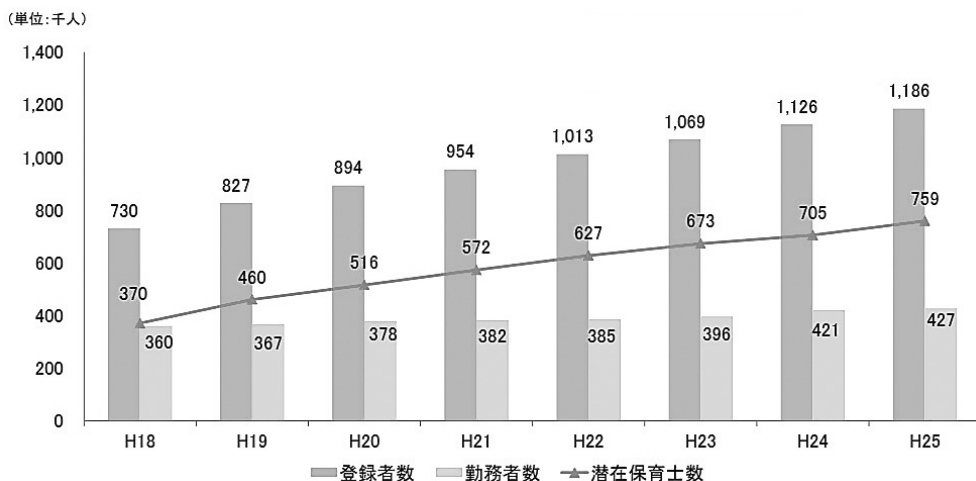
2018年9月8日「朝日新聞」から作成

<資料Ⅱ> 保育施設で不足している職種



「独立行政法人福祉医療機構」から作成

<資料Ⅲ> 保育士登録者数，勤務者数，潜在保育士数の推移



登録者数:「厚生労働省雇用均等・児童家庭局保育課調べ(各年4月1日)」から作成  
勤務者数:「厚生労働省大臣官房統計情報部「社会福祉施設等調査」(各年10月1日)」から作成

(用語の説明)

認可保育施設：国が定めた設置基準をクリアして都道府県知事に認可された施設

待機児童：保育施設に入る条件を満たしているのに、入ることができない状態の子ども

潜在保育士：保育士の資格があるのに保育士の仕事を希望しない人

問1 資料Ⅰは、認可保育施設の定員，利用申込者数，待機児童数の推移を示している。2014年～2017年にかけて待機児童数はどのように推移しているか，資料Ⅰを読み取って、「～にもかかわらず待機児童数は～」の形で書け。

問2 資料Ⅱは、保育施設で不足している職種を，資料Ⅲは、保育士登録者数，勤務者数，潜在保育士数の推移を示している。資料Ⅰの2014年～2017年のように待機児童数が推移しているのはなぜか，その理由を資料Ⅱ，資料Ⅲを読み取って、「資格」，「潜在保育士」，「保育士」，「不足」の語句を使って書け。

# 社会解答用紙

1	問 1			
	問 2	(1)	(2)	
	問 3			
	問 4	→ → →		
	問 5	番号	事件名	
	問 6	P	Q	R

2	問 1			
	問 2			
	問 3	Ⓐ	Ⓑ	
	問 4			

3	問 1			
	問 2	造山帯		
	問 3			
	問 4	E	F	G
	問 5			
	問 6	モノカルチャー経済は		

4	問 1			
	問 2	B	C	
	問 3			
	問 4	夏でも		

5	問 1	Ⓐ	Ⓑ	
	問 2			
	問 3	Ⓐ	法律が	
	問 4	人		
	問 5			
	問 6			

6	問 1			
	問 2			

出身校	受験番号	氏名	得点
中学校			